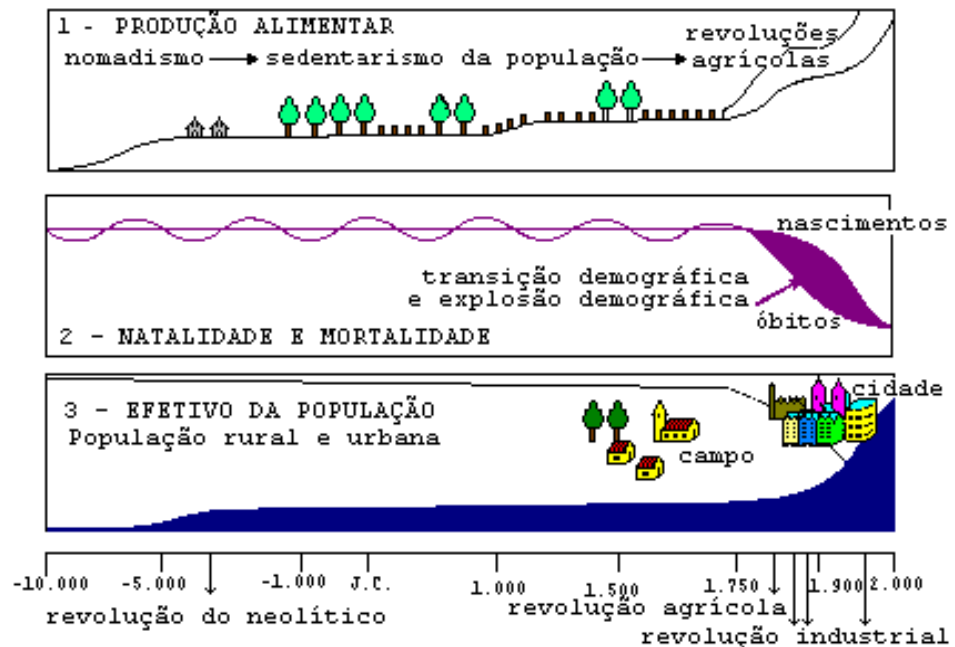


FUVEST 1998 – SEGUNDA FASE – PROVA DE GEOGRAFIA

Q.01



- Relacione as figuras 1 e 2 para discutir os argumentos apresentados por Malthus e seus seguidores.
- Baseando-se nas três figuras, analise a situação da Grã-Bretanha e da África Equatorial.

Q.02

"O interior de São Paulo há muito tempo não é mais caipira. (...) Os negócios locais incluem produtos manufaturados, boa parte de alta tecnologia, cujos volumes superam os realizados na capital (...) Essa tendência deve acentuar-se: as indústrias estão se retirando da capital e da área metropolitana de São Paulo. (...) Esse movimento amplia a área metropolitana de São Paulo para um raio de 150 quilômetros, a partir da capital, e se estende para áreas ainda mais distantes, ao longo das principais rodovias, o que muda rapidamente a paisagem do Estado".

(Adapt. Lencioni, S. - O Estado de S.Paulo), 26/10/97.

- Por que as indústrias estão se retirando da capital e da área metropolitana de São Paulo?
- Análise dois efeitos desse movimento na organização urbana da metrópole paulistana e dois nas cidades do interior de São Paulo.

FUVEST 1998 – SEGUNDA FASE – PROVA DE GEOGRAFIA

Q.03

O que os economistas e comentaristas econômicos denominam de **Custo Brasil** é o conjunto de tarifas, fretes, taxas, tributos, etc..., que incidem sobre os produtos brasileiros, onerando-os acima dos preços do mercado internacional e dificultando a competitividade pelo mercado externo.

Entre os fatores geográficos do **Custo Brasil** destaca-se o sistema de transporte.

- Caracterize o atual sistema de transportes do Brasil e explique por que ele é oneroso para o comércio exterior.
- Entre os meios de transportes, qual é o mais barato para produtos pesados e volumosos, a distâncias superiores a 1.000 km? Dê um exemplo.

Q.04

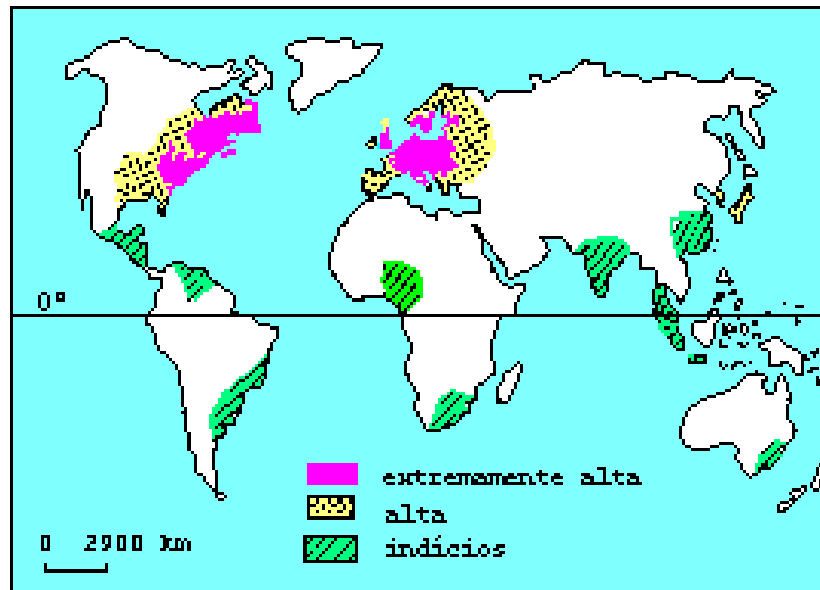


- Identifique os países A - B - C e D que faziam parte da República Popular da Iugoslávia e a região da Europa onde estão situados.
- Explique por que a República Popular da Iugoslávia se fragmentou.
- Atualmente, qual a importância desse conjunto de países no contexto geopolítico da Europa?

FUVEST 1998 – SEGUNDA FASE – PROVA DE GEOGRAFIA

Q.05

OCORRÊNCIA DE CHUVA ÁCIDA - 1990



- Explique as causas do fenômeno representado acima.
- Analise as diferenças entre os Hemisférios Norte e Sul.
- Avalie a incidência da chuva ácida na América Latina.

Q.06

Observe a tabela abaixo:

Intercâmbio comercial do Brasil com os EUA

exportações	importações
1992 - US\$ 6,9 bilhões	1992 - US\$ 4,5 bilhões
1996 - US\$ 9,2 bilhões	1996 - US\$ 11,7 bilhões
aumento de 32,5%	aumento de 157,8%

Fonte: Ministério da Indústria, do Comércio e do Turismo.
O Estado de S.Paulo, 12/10/1997

- Explique a mudança de tendência indicada pelos dados, considerando os principais produtos de importação/exportação e as dificuldades que o Brasil tem encontrado para realizar este intercâmbio comercial com os EUA.
- Discuta as vantagens e desvantagens da participação do Brasil em dois blocos econômicos regionais:
 - Mercosul, definido pelo Tratado de Assunção (1991);
 - ALCA (Associação de Livre Comércio das Américas, prevista para entrar em vigor em 2005).

FUVEST 1998 – SEGUNDA FASE – PROVA DE GEOGRAFIA

Q.07

Sendo, se diz, que minha terra representa o elevado reservatório, a caixa-d'água, o coração branco, difluente, multivertente, que desprende e deixa, para tantas direções, formadas em caudais, as enormes vias - o São Francisco, o Paranaíba e o Grande que fazem o Paraná, o Jequitinhonha, o Doce, os afluentes para o Paraíba, e ainda, - e que, desde a meninice de seus olhos-d'água, da discrição de brejos e minadouros, e desses monteses riachinhos com subterfúgios, Minas é a doadora plácida.

Sobre o que, em seu território, ela ajunta de tudo, os extremos, delimita, aproxima, propõe transição, une ou mistura: no clima, na flora, na fauna, nos costumes, na geografia, lá se dão encontro, concordemente, as diferentes partes do Brasil. Seu orbe é uma pequena síntese, uma encruzilhada; pois Minas Gerais é muitas. São pelo menos, várias Minas.

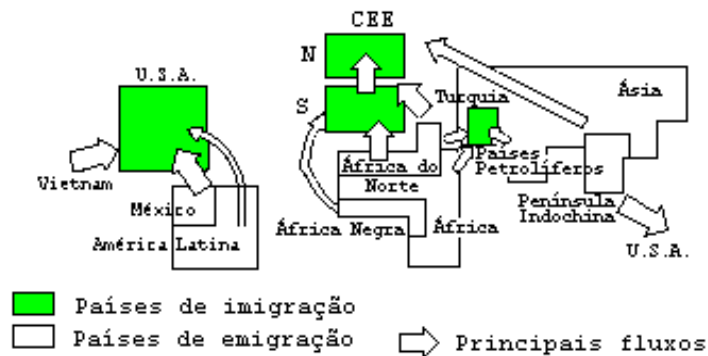
(J.Guimarães Rosa, Ave Palavra)

- Por que o autor afirma que Minas Gerais é a "caixa d'água" e a "doadora plácida"?
- Escolha duas subregiões mineiras que apresentam semelhanças naturais (vegetação) econômicas com os respectivos Estados vizinhos.

Q.08

Sobre o tema das migrações internacionais, utilize o mapa para responder à questão **a)** e o texto para responder a questão **b)**.

MIGRAÇÕES INTERNACIONAIS - 1990



- Nos últimos anos a situação apresentada no mapa praticamente se manteve, com algumas exceções. Comente o fato, analisando os principais fluxos migratórios e as razões que os originaram.
- "Atualmente, uma tendência mundial é a migração de trabalhadores altamente qualificados... é o que se costuma denominar de "migração de cérebros". Explique o texto acima, apresentando dois exemplos significativos.

FUVEST 1998 – SEGUNDA FASE – PROVA DE GEOGRAFIA

Q.09

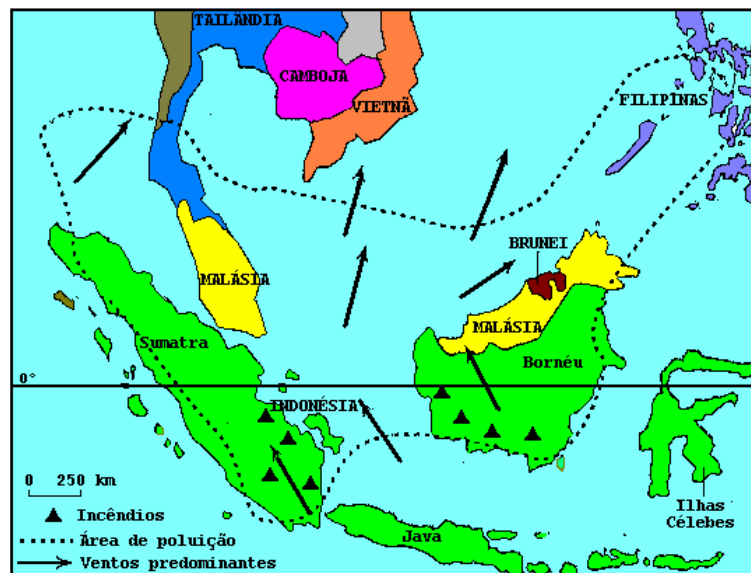
ESBOÇO DO PROCESSO DE OCUPAÇÃO RECENTE DO BRASIL MERIDIONAL

- a) Com o auxílio do mapa ao lado explique o processo de ocupação
- das encostas e área planáltica ao norte de Porto Alegre (RS);
 - da encosta sul do Planalto Catarinense (Criciúma, Urussanga, Lauro Müller)
- b) Analise as transformações socioeconômicas que ocorreram nas últimas décadas no Norte Paranaense



Fonte - Adap. Arbex Jr. e Olic, 1996

Q.10



O ESTADO DE SÃO PAULO 28/09/97

O mapa acima delimita a região onde ocorreu recentemente um desastre ecológico.

- a) Considerando as características geográficas desta região, discuta as possíveis causas desse desastre.
- b) Compare a situação acima com outra semelhante no Brasil.