

Geografia – FUVEST 2001

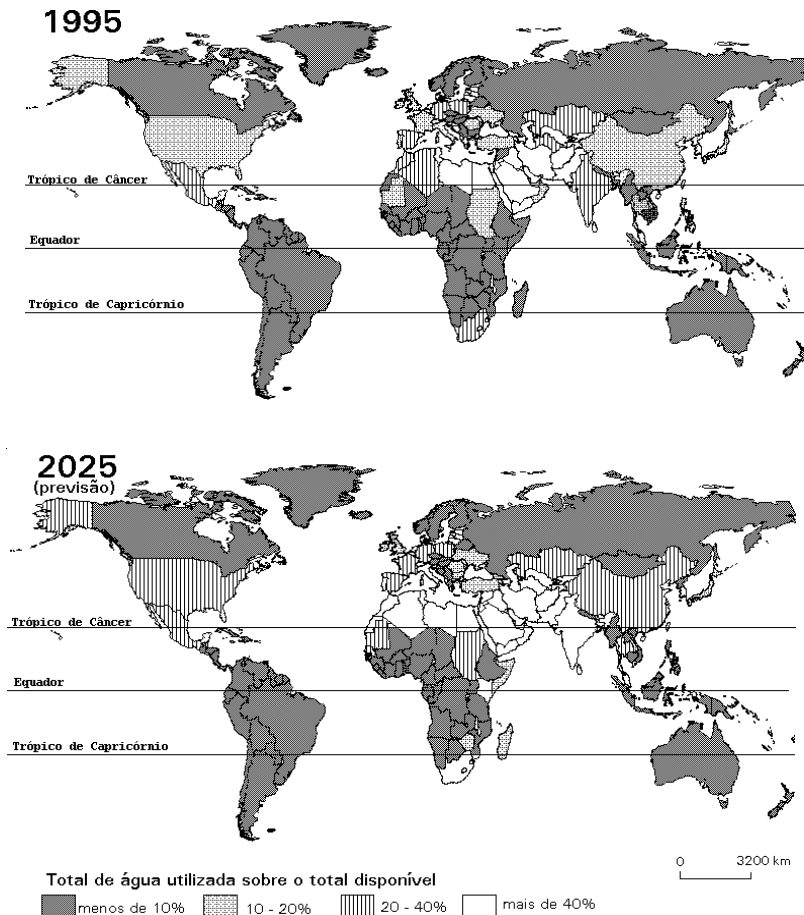
Q.01

Grandes eventos esportivos atraem a atenção de muita gente e por isso acabam sendo palco de manifestações políticas. Nos Jogos Olímpicos de Sidney (2000), não foi diferente quando a Coreia do Norte e a Coreia do Sul desfilaram juntas na abertura, gerando um dos momentos de maior emoção do espetáculo.

- Compare os dois países quanto à economia e à política.
- Explique o significado do desfile conjunto desses 2 países no contexto político atual.

Q.02

CONSUMO DE ÁGUA

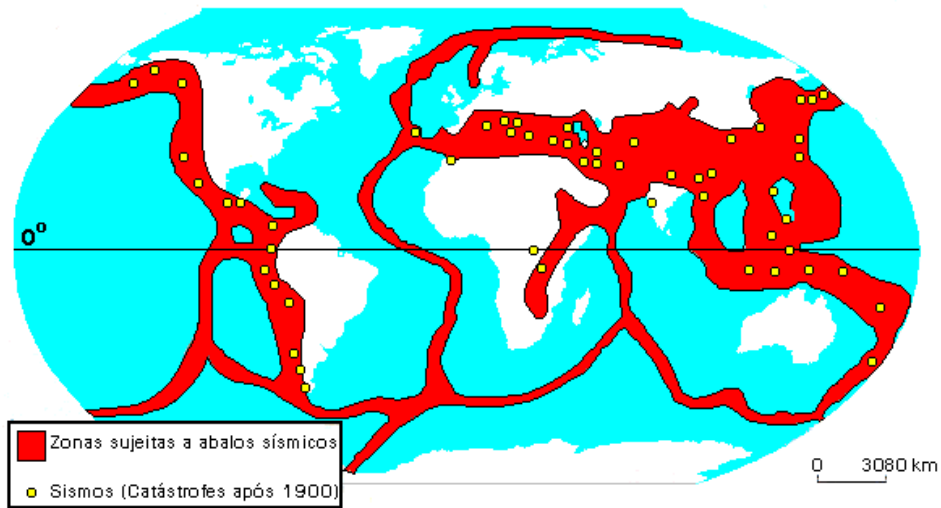


Fonte: UNEP - GEO 2000

- Com base nos mapas, analise a situação dos Estados Unidos e da Índia quanto ao consumo de água registrado em 1995 e o previsto para 2025.
- Compare a situação desses países, no que se refere ao consumo de água, com a situação do Brasil.

Q.03

ZONAS SÍSMICAS



Fonte: Simielli, Geoatlas, 2000.

O mapa apresenta a localização de vários sismos de grande magnitude. Analise-o e responda:

- Por que ocorrem sismos e quais suas conseqüências?
- Justifique a ausência de sismos de grande magnitude no Brasil.

Q.04

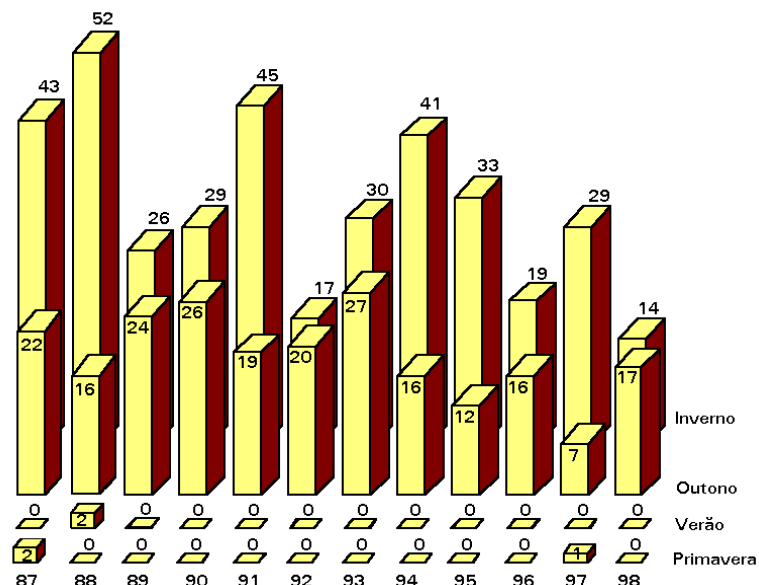
Compare a região Nordeste e a Costa Sudoeste dos Estados Unidos quanto a:

- tipos de indústria e características da mão-de-obra empregada.
- fatores que influenciaram a localização industrial de cada uma dessas regiões.

Q.05

Observe o gráfico abaixo.

**REGIÃO METROPOLITANA DE SÃO PAULO
DISTRIBUIÇÃO DO NÚMERO DE DIAS DESFAVORÁVEIS À DISPERSÃO DE
POLUENTES, SEGUNDO AS ESTAÇÕES DO ANO: 1987-1998**



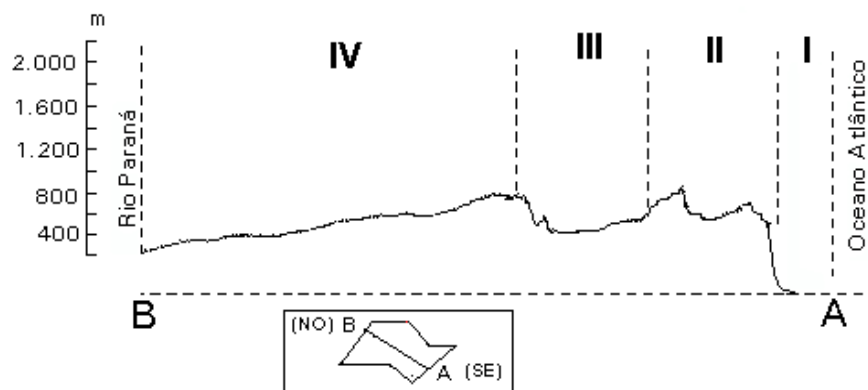
Fonte: CD-ROM, EMPLASA, 2000

Considerando o total de dias desfavoráveis à dispersão de poluentes, responda:

- Por que os dias desfavoráveis à dispersão dos poluentes concentram-se no outono e no inverno?
- Que políticas públicas foram adotadas para que o número de dias desfavoráveis à dispersão de poluentes diminuísse ao longo da década de 1990?

Q.06

COMPARTIMENTAÇÃO DO RELEVO PAULISTA



Fonte: Ab'Sáber, IPT, 1981.

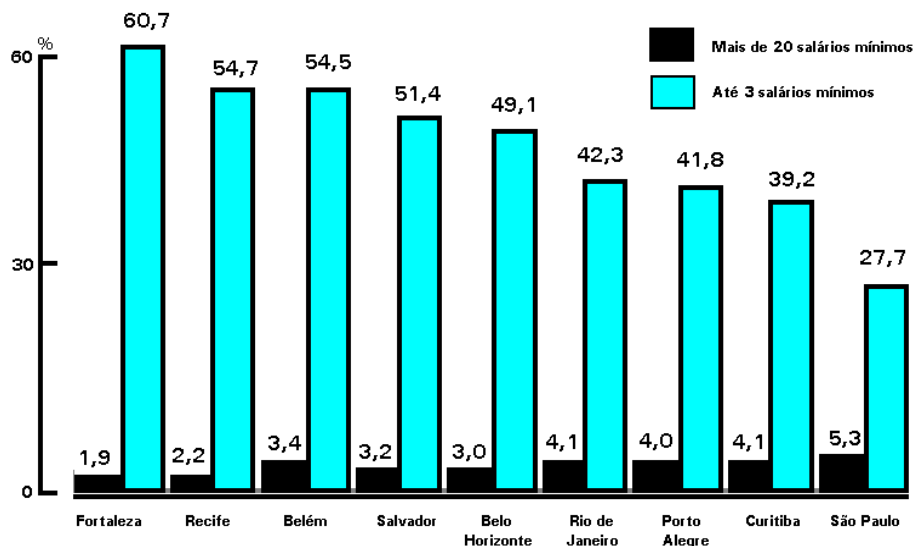
- Identifique as unidades geomorfológicas I, II, III e IV do Estado de São Paulo.
- Escolha uma dessas unidades e explique os processos de sua formação.

Q.07

O turismo de negócios e o ecoturismo estão entre as mais promissoras modalidades econômicas. Indique e explique duas condições geográficas, no Brasil, necessárias, respectivamente, para o desenvolvimento do turismo de negócios e para o desenvolvimento do ecoturismo. Cite um exemplo que ilustre cada um dos casos.

Q.08

**REGIÕES METROPOLITANAS
PESSOAS ECONOMICAMENTE ATIVAS,
POR CLASSES DE RENDIMENTO MENSAL - 1998**



Fonte: IBGE, 1998

O gráfico registra a desigualdade existente em regiões metropolitanas do Brasil.

- O que são regiões metropolitanas?
- Indique e explique três aspectos que justifiquem as diferenças entre as metrópoles brasileiras em relação ao rendimento médio mensal da população economicamente ativa.

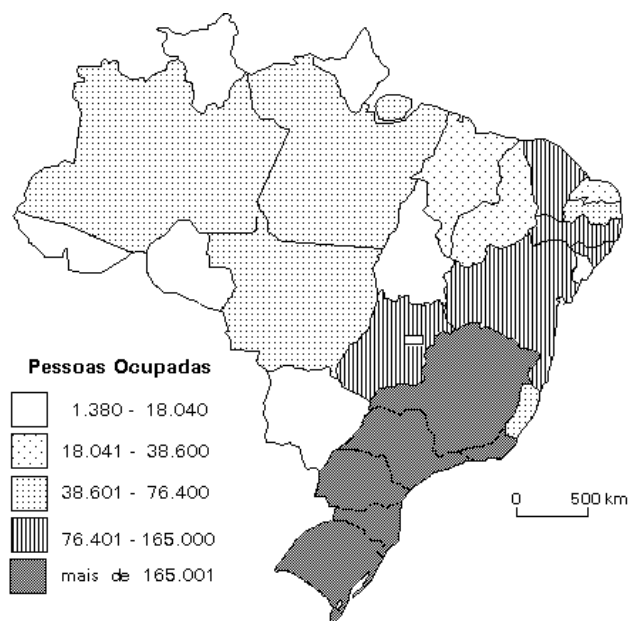
Q.09

Analise as características das bacias hidrográficas dos rios São Francisco e Amazonas, relacionando-as ao

- a) processo de povoamento.
- b) desenvolvimento de atividades econômicas do setor primário.

Q.10

INDÚSTRIA DE TRANSFORMAÇÃO - 1996



Fonte: BIM, CD-ROM, IBGE, 2000.

- a) Que Estados apresentam menor concentração de pessoas ocupadas na indústria de transformação? Justifique sua resposta.
- b) Apresente duas justificativas que expliquem a maior concentração de pessoas ocupadas na indústria de transformação em quase todos os Estados das regiões Sudeste e Sul do País.